

Παράλληλες Ευθείες

Ανακεφαλαίωση 4ου Κεφαλαίου

11ο Φύλλο Εργασίας

Καθηγητής: Νικόλαος Δ. Κατσιπης

Ανακεφαλαίωση της Θεωρίας

Ενότητα 4.1, σελ. 80

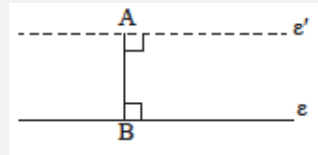
Δύο ευθείες ενός επιπέδου:

- * ταυτίζονται, όταν έχουν δύο κοινά σημεία,
- * τέμνονται, όταν έχουν ένα κοινό σημείο
- * είναι παράλληλες, όταν δεν έχουν κοινό σημείο.

Αίτημα Παράλληλίας, σελ. 81

Από σημείο Α εκτός ευθείας:

- * υπάρχει ευθεία $\epsilon' \parallel \epsilon$ και
- * δεχόμαστε αξιωματικά ότι η ϵ' είναι μοναδική.



Πορίσματα Ι&ΙΙ-Θεώρημα, σελ. 80, 81 και 82

Δύο ευθείες ϵ_1 και ϵ_2 είναι παράλληλες αν:

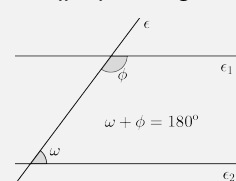
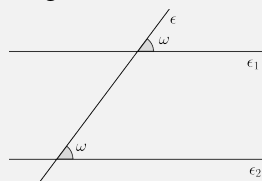
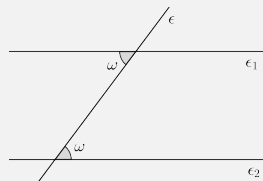
- * είναι κάθετες στην ίδια ευθεία ϵ ,
ή
- * είναι παράλληλες προς τρίτη ευθεία ϵ ,
ή
- * τέμνονται από μια τρίτη ευθεία και σχηματίζουν δύο γωνίες:

◇ εντός
ίσες,

εναλλάξ

◇ εντός εκτός και ε-
πί τα αυτά μέρη
ίσες,

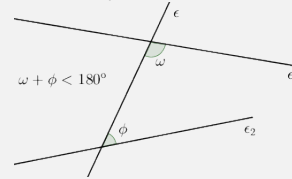
◇ εντός και επί τα
αυτά μέρη παρα-
πληρωματικές.



Πρόταση IV, σελ. 83

Δύο ευθείες ϵ_1 και ϵ_2 τέμνονται αν τεμνόμενες από τρίτη ευθεία ϵ σχηματίζουν τις εντός και επί τα αυτά μέρη γωνίες με άθροισμα μικρότερο από δύο ορθές. Οι ευθείες τέμνονται προς το μέρος της τέμνουσας που βρίσκο-

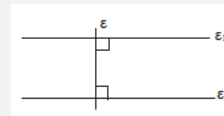
νται οι γωνίες.



Πορίσματα σελ 82-83 και Πρόταση I σελ. 82

- Έστω $\epsilon_1 \parallel \epsilon_2$ και ϵ μια τρίτη ευθεία.

* Αν $\epsilon \perp \epsilon_1$, τότε $\epsilon \perp \epsilon_2$.



* Αν η ϵ τέμνει την ϵ_1 τότε θα τέμνει και την ϵ_2 και θα σχηματίζει:

- ◇ τις εντός εναλλάξ γωνίες ίσες,
- ◇ τις εντός εκτός και επί τα αυτά μέρη γωνίες ίσες,
- ◇ τις εντός και επί τα αυτά μέρη γωνίες παραπληρωματικές.

Ενότητα 4.4 σελ. 84, Θεώρημα σελ. 89

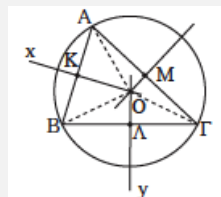
Δύο γωνίες που έχουν παράλληλες ή κάθετες πλευρές είναι:

- * ίσες, αν και οι δύο είναι οξείες ή και οι δύο είναι αμβλείες
- * παραπληρωματικές, αν η μία είναι οξεία και η άλλη είναι αμβλεία.

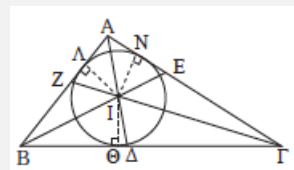
Ενότητα 4.5, σελ. 85

Αξιοσημείωτοι κύκλοι τριγώνου:

* Περιγεγραμμένος κύκλος, λέγεται ο κύκλος που διέρχεται από τις τρεις κορυφές του τριγώνου. Το κέντρο του ονομάζεται περίκεντρο και είναι το σημείο από το οποίο διέρχονται και οι τρεις μεσοκάθετοι του τριγώνου.



* Εγγεγραμμένος κύκλος, λέγεται ο κύκλος που εφάπτεται των τριών πλευρών του. Το κέντρο του ονομάζεται έγκεντρο και είναι το σημείο από το οποίο διέρχονται και οι τρεις διχοτόμοι του τριγώνου.



Θεώρημα σελ. 88, Πορίσματα σελ. 89-90, Ενότητα 4.8 σελ. 90

Το άθροισμα των εσωτερικών γωνιών:

* τριγώνου είναι 2 ορθές, οπότε προκύπτουν τα εξής:

- | | |
|--------------------------------------------------------------------------------------------|---------------------------------------------------------------|
| ◇ κάθε εξωτερική γωνία ισούται με το άθροισμα των δύο απέναντι εσωτερικών, | ◇ οι οξείες γωνίες ορθογωνίου τριγώνου είναι συμπληρωματικές, |
| ◇ αν δύο τρίγωνα έχουν 2 γωνίες ίσες, μία προς μία, έχουν και τις τρίτες γωνίες τους ίσες, | ◇ κάθε γωνία ισόπλευρου τριγώνου είναι 60° , |

* κυρτού ν -γώνου είναι $(2\nu - 4)$ ορθές.
(ή $(\nu - 2) \cdot 180^\circ$)

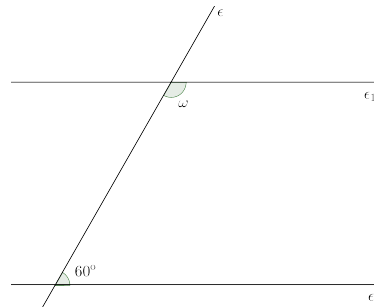
* Το άθροισμα των εξωτερικών γωνιών κυρτού ν -γώνου είναι 4 ορθές.

Ερωτήσεις Κατανόησης

Να επιλέξετε την σωστή απάντηση.

1. Στο διπλανό σχήμα οι ευθείες ϵ_1 και ϵ_2 είναι παράλληλες. Η γωνία ω ισούται με:

- | | |
|---------------|----------------|
| A. 60° | Γ. 120° |
| B. 30° | Δ. 180° |



2. Σε ένα τρίγωνο $AB\Gamma$ ισχύει ότι $\widehat{\Gamma}_{\epsilon\xi} = 120^\circ$ και η γωνία \widehat{B} είναι διπλάσια της γωνίας \widehat{A} . Τότε, η γωνία \widehat{A} είναι:

- | | | | |
|---------------|---------------|---------------|---------------|
| A. 80° | B. 60° | Γ. 90° | Δ. 40° |
|---------------|---------------|---------------|---------------|

3. Σε ένα τρίγωνο $AB\Gamma$ ισχύει ότι $\widehat{A} = \widehat{B} + \widehat{\Gamma}$. Τότε:

- | | | | |
|-------------------|-------------------|-------------------|-------------------|
| A. $A = 90^\circ$ | B. $A = 60^\circ$ | Γ. $B = 90^\circ$ | Δ. $BA = B\Gamma$ |
|-------------------|-------------------|-------------------|-------------------|

4. Το άθροισμα των εξωτερικών γωνιών κάθε τριγώνου είναι ίσο με:

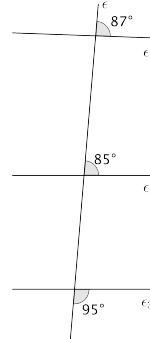
- | | | | |
|---------------|----------------|----------------|----------------|
| A. 90° | B. 180° | Γ. 270° | Δ. 360° |
|---------------|----------------|----------------|----------------|

5. Το άθροισμα των γωνιών ενός κυρτού πενταγώνου είναι:

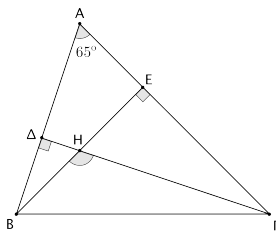
- A. 6 ορθές B. 5 ορθές Γ. 3 ορθές Δ. 10 ορθές

6. Στο διπλανό σχήμα, παράλληλες είναι οι ευθείες:

- A. ϵ_1 και ϵ_2 Γ. ϵ_3 και ϵ_1
 B. ϵ_2 και ϵ_3 Δ. ϵ και ϵ_3



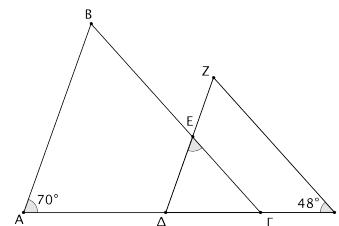
7. Στο παρακάτω σχήμα η γωνία $\widehat{B\hat{H}\Gamma}$ είναι ίση με:



- A. 115° Γ. 130°
 B. 155° Δ. 110°

8. Στο διπλανό σχήμα ισχύει ότι:
 $AB \parallel \Delta Z$ και $\Gamma B \parallel HZ$.
 Τότε, η γωνία $\widehat{\Delta\hat{E}\Gamma}$ είναι:

- A. 118° Γ. 62°
 B. 22° Δ. 42°



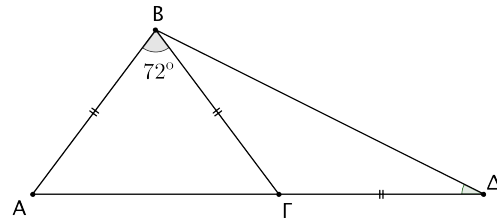
9. Το άθροισμα των γωνιών ενός κυρτού ν -γώνου είναι ίσο με 8 ορθές.
 Το πλήθος των πλευρών του πολυγώνου είναι:

- A. 4 B. 5 Γ. 6 Δ. 8

10. Δύο οξείες γωνίες που έχουν τις πλευρές τους παράλληλες, μία προς μία,

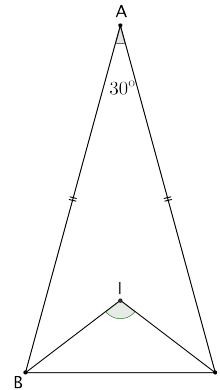
- A. είναι συμπληρωματικές Γ. διαφέρουν κατά 30°
 B. διαφέρουν κατά 45° Δ. είναι ίσες

11. Στο διπλανό σχήμα $AB = BG = \Gamma\Delta$ και $\widehat{AB\Gamma} = 72^\circ$.
 Η γωνία $\widehat{\Gamma\Delta B}$ είναι ίση με:



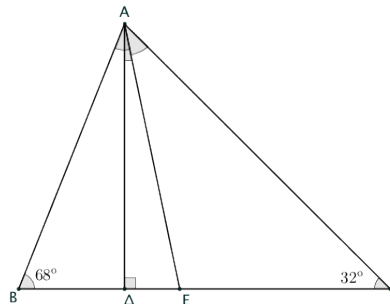
- A. 72° B. 36° Γ. 27° Δ. 54°

12. Δίνεται το ισοσκελές τρίγωνο $AB\Gamma$, με $AB = A\Gamma$, $\widehat{A} = 30^\circ$ και το σημείο I είναι το έγκεντρο του.
 Η γωνία $\widehat{B\Gamma I}$ είναι ίση με:



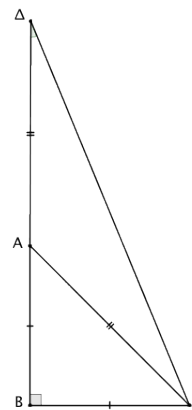
- A. 100° Γ. 110°
 B. 105° Δ. 120°

13. Στο διπλανό τρίγωνο $AB\Gamma$ το $A\Delta$ είναι το ύψος που αντιστοιχεί στην πλευρά $B\Gamma$ και η $A\epsilon$ είναι η διχοτόμος της γωνίας $\widehat{BA\Gamma}$.
 Αν $\widehat{B} = 68^\circ$ και $\widehat{\Gamma} = 32^\circ$, τότε η $\widehat{\Delta A\epsilon}$, ισούται με:



- A. 40° Γ. 22°
 B. 20° Δ. 18°

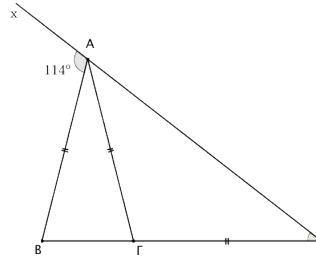
14. Δίνεται ορθογώνιο και ισοσκελές τρίγωνο $AB\Gamma$ με $\widehat{B} = 90^\circ$. Στην προέκταση της πλευρά του BA θεωρούμε σημείο Δ ώστε $A\Gamma = A\Delta$. Η γωνία $\widehat{\Delta}$ ισούται με:



- A. 45° Γ. $22,5^\circ$
 B. $62,5^\circ$ Δ. 25°

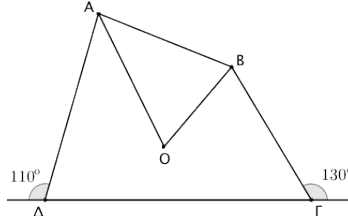
15. Στο διπλανό σχήμα $AB = AG = GE$ και $\widehat{BAx} = 114^\circ$. Η γωνία \widehat{E} ισούται με:

- A. 38° Γ. 48°
 B. 33° Δ. 66°



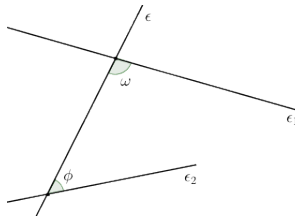
16. Στο κυρτό τετράπλευρο $AB\Gamma\Delta$ η εξωτερική γωνία της $\widehat{\Gamma}$ ισούται με 130° και η εξωτερική γωνία της $\widehat{\Delta}$ ισούται με 110° . Αν οι διχοτόμοι των γωνιών \widehat{A} και \widehat{B} τέμνονται στο σημείο O , τότε η γωνία \widehat{AOB} ισούται με:

- A. 60° Γ. 15°
 B. 30° Δ. 45°



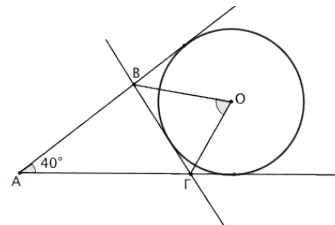
17. Στο διπλανό σχήμα οι ευθείες ϵ_1 και ϵ_2 τέμνονται προς το μέρος της τέμνουσας ϵ που βρίσκονται οι γωνίες ω και ϕ . Τότε, ισχύει ότι:

- A. $\omega + \phi = 180^\circ$ Γ. $\omega + \phi = 210^\circ$
 B. $\omega + \phi < 180^\circ$ Δ. $\omega + \phi = 270^\circ$



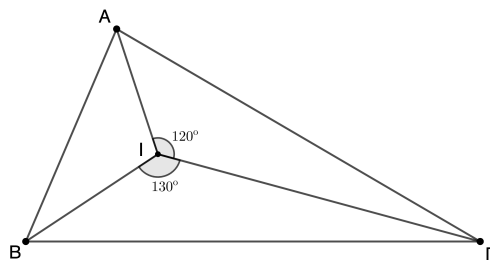
18. Στο διπλανό σχήμα το τρίγωνο $AB\Gamma$ σχηματίζεται από τρεις εφαπτόμενες του κύκλου (O, R) . Αν $\widehat{BA\Gamma} = 40^\circ$, τότε η γωνία $\widehat{BO\Gamma}$ ισούται με:

- A. 55° Γ. 65°
 B. 60° Δ. 70°



19. Στο διπλανό σχήμα το σημείο I είναι το έγκεντρο του τριγώνου $AB\Gamma$. Αν $\widehat{A\Gamma I} = 120^\circ$ και $\widehat{\Gamma I B} = 130^\circ$, τότε η γωνία $\widehat{A\Gamma B}$, είναι ίση με:

- A. 20° Γ. 40°
 B. 30° Δ. 50°



"Η υψηλότερη μορφή καθαρής σκέψης, είναι τα Μαθηματικά".
 Πλάτων, 427 π.Χ-347 π.Χ, Έλληνας φιλόσοφος.